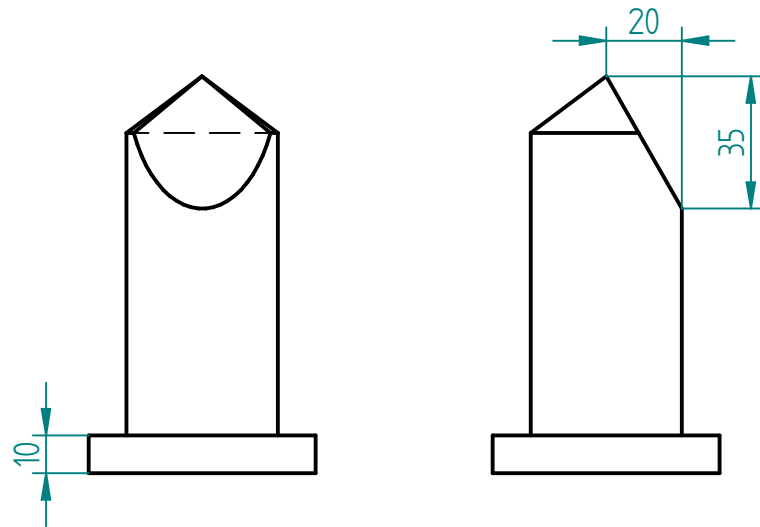

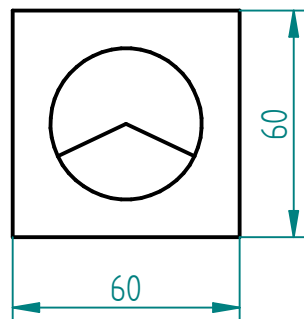


# CAD-Übungsaufgabe 6-2 – Veränderungen am runden Körper

So sollte deine Lösung aussehen:



Versuche nun, den Körper wie in der Zeichnung nachzukonstruieren.



SOLID EDGE ACADEMIC COPY

	Name	Datum	Christian-Sammet-MS Pegnitz		
Gezeichnet	C. Bordes	22.03.2020			
Geprüft	C. Bordes	23.03.2020			
Titel					
CAD 6-2					
			M: 1 : 2		